

ПІБ _____

Навчальний заклад, район _____





Назва роботи _____

_____ контактний телефон _____

пед.керівник _____

9-А

І рівень (12 балів по 0.5 балів питання)

- Оберіть масштаб, який відповідає дрібномасштабній географічній карті:
 А) 1 : 2 000 000 В) 1 : 300 000 Г) 1 : 50 000
- Оберіть поняття, що відповідає визначенню « час, однаковий на всіх точках певного меридіану»:
 А) поясний; Б) декретний; В) літній; Г) місцевий
- Оберіть групу областей з найбільшим показником густоти населення:
 А) Донецька, Запорізька, Миколаївська
 Б) Харківська, Полтавська, Дніпропетровська
 В) Донецька, Дніпропетровська, Львівська
 Г) Одеська, Херсонська, Миколаївська
- Хто першим досягнув Південного полюса?
 А) Джеймс Кук Б) Руаль Амундсен В) Роберт Пірі Г) Роберт Скотт
- Позначте вид природних ресурсів, що є невідновлюваним:
 А) лісові; Б) мінеральні; В) водні; Г) рекреаційні
- Укажіть межі другого годинникового поясу без урахування проходження державних кордонів:
 А) 22° 30' сх.д. і 37° 30' сх.д. Б) 15° сх.д. і 30° сх.д.
 В) 7° 30' сх.д. і 22° 30' сх.д. Г) 22° сх.д. і 40° сх.д.
- Визначте, які корисні копалини пов'язані з Передкарпатським прогином:
 А) боксити Б) нафта і газ В) кам'яне вугілля Г) уранові руди
- Виберіть тип ґрунтів, що належать до азональних:
 А) сірі лісові Б) дерново-підзолисті В) лучно-болотні Г) каштанові
- Оберіть поняття, яке відповідає визначенню «це величина, яка відображає відношення кількості населення до площі території, на якій воно проживає»:
 А) демографія Б) природний приріст В) густина населення Г) імміграція
- Укажіть пару країн світу, де мешкає найбільша українська діаспора:
 А) США і Канада Б) Білорусь і Польща В) США і Росія Г) Росія і Польща
- Серед запропонованих історико-географічних районів виберіть ті, що знаходяться у Західній Україні:
 А) Слобожанщина Б) Буковина В) Таврія
 Г) Наддніпрянщина Д) Волинь З) Сіверщина Ж) Галичина
- Визначте різницю в часі між географічними об'єктами, які віддалені один від одного на 4° :
 А) 1 хв. Б) 4 хв. В) 8 хв. Г) 16 хв.
- Оберіть умовний знак, яким на карті позначають Бориславське, Долинське, Старосамбірське родовище: А)  Б)  В)  Г) 
- Виберіть правильне твердження:
 А) Оптимістична печера утворилася в крейдових відкладах
 Б) Товтри – пасма та горби, що утворились на краю прадавнього моря
 В) Шацькі озера утворились в ніжній течії р. Дунай
 Г) Найдовший канал в Україні – Дніпро – Донбас
- Укажіть, яке озеро в Україні має найбільшу глибину:
 А) Ялпуг Б) Світязь В) Синевир Г) Сасик (Кундук)
- Виберіть варіант, у якому перелічені об'єкти не належать до берегової лінії Чорного моря:
 А) Каламітська затока, Тендрівська коса

- Б) о. Джарилгач, Балаклавська бухта В) о. Зміїний, Каркінітська затока
Г) коса Бірючий Острів, Бердянська затока
17. Укажіть ґрунти, які сформувались на південному березі Криму:
А) бурі лісові Б) гірські лучні В) коричневі Г) каштанові
18. Укажіть, який заповідник не є біосферним:
А) Асканія – Нова Б) Поліський В) Карпатський Г) Дунайський
19. Визначте форму організації виробництва, коли кінцевий продукт одного виробництва є сировиною для іншого:
А) спеціалізація Б) комбінування В) кооперування Г) концентрація
20. Назвіть державу, що не перетинається Гринвіцьким меридіаном:
А) Іспанія; Б) Італія; В) Великобританія; Г) Франція
21. Виберіть 3 ознаки, які характерні для топографічних карт:
А) великомасштабні
Б) дрібномасштабні В) середньомасштабні
Г) спотворення практично відсутні Д) спотворення значні
З) за змістом – тематичні Ж) за змістом - загальногеографічні
22. Виберіть три річки України:
А) Вісла Б) Дон В) Південний Буг
Г) Волга Д) Кубань З) Дністер Ж) Інгул
23. Оберіть правильне твердження, що стосується печери Мармурова:
А) найдовша печера України Б) відкрита в кінці ХІХ ст.
В) розташована на Поділлі Г) має карстова походження
24. Визначте, яка етнічна група українців населяє найвисокогірнішу частину українських Карпат:
А) лемки б) гуцули В) бойки г) поліщуки

II рівень Практичні завдання (3 бали по 1 балу за завдання)

1. Дайте визначення: Карта це _____
2. Місцевий час крайньої точки України (40° сх.д.) випереджає місцевий час крайньої західної точки (м. Чоп) на 1 год.12 хв.. Визначте географічну довготу крайньої західної точки України.
3. Визначте, якою буде температура повітря на висоті 2 км, якщо на рівні моря вона становить 22°C .

III рівень (18 балів по 6 балів за питання)

1. Поясніть зміст понять «меліорація» і «рекультивация» ґрунтів. Яких меліоративних заходів необхідно вживати в різних частинах території України?
2. Наведіть приклади впливу підстильної поверхні на клімат України
3. Дайте характеристику соціально-економічних чинників, що впливають на народжуваність в Україні.

2017

9 клас

Варіант - Б

ПІБ _____
Навчальний заклад, район _____
Назва роботи _____

I рівень (12 балів по 0.5 балів питання)

1. Оберіть правильне твердження щодо особливостей економіко-географічного положення України:
 - A) держава межує з країнами ЄС на Заході;
 - B) територія держави не омивається морями Світового океану
 - B) територія країни не компактна
2. Хто першим досягнув Північного полюса?
 - A) Джеймс Кук
 - B) Руаль Амундсен
 - B) Роберт Пірі;
 - Г) Роберт Скотт
3. Оберіть варіант, у якому вказано адміністративні області України, що межують одна з одною:
 - A) Вінницька, Житомирська, Київська;
 - B) Львівська, Тернопільська, Полтавська.
 - B) Дніпропетровська, Одеська, Полтавська
 - Г) Рівненська, Волинська, Закарпатська
4. Укажіть тектонічну структуру, у межах якої розташовані основні родовища нафти і газу України:
 - A) Волино - Подільська плита
 - B) Дніпровсько - Донецька западина
 - B) Український щит
5. Укажіть, що є предметом вивчення фізичної географії:
 - A) закономірності розвитку природи Землі
 - B) закономірності розміщення населення;
 - B) закономірності розміщення господарства
 - Г) особливості природи, населення, господарства
6. Як називають вологі екваторіальні ліси Південної Америки:
 - A) селва
 - B) пампа
 - B) кампос
 - Г) льянос
7. Оберіть представників тваринного світу, характерних для степової зони України:
 - A) глухар, бобер, лось
 - B) олень, сайгак, лисиця
 - B) бабак, куріпка, сокіл
 - Г) борсук, лелека чорний, ведмідь
8. Укажіть відповідність між об'єктами природно-заповідного фонду та областями України, у межах яких вони розташовані:
 - A) Природний заповідник «Розточчя»__3__
 - B) Шацький національний природний парк__2__
 - B) Біосферний заповідник «Асканія Нова»__4__;
 - Г) Природний заповідник «Медобори»__5__.
- 1) Харківська 2) Волинська 3) Львівська 4) Херсонська 5) Тернопільська
9. Вкажіть ресурси, які належать до складу вичерпних:
 - A) корисні копалини
 - B) енергія сонця
 - B) внутрішня енергія землі
 - Г) гідроенергетичні ресурси
10. Зазначте, хто з дослідників написав книжку «Опис України»:
 - A) Клавдій Птолемей
 - B) Страбон
 - B) Гійом де Боплан
 - Г) Пліній Старший
11. Оберіть групу метеорологічних стихійних явищ, які спостерігаються в Кримських горах і Карпатах:
 - A) зливи, град, суховії, наводки
 - B) посухи, селі, наводки
 - B) лавини, селі, зливи, град
 - Г) пилові бурі, зливи, суховії
12. Укажіть, які відклади в геологічній будові України є найдавніші:
 - A) докембрійські
 - B) палеозойські
 - B) мезозойські
 - Г) кайнозойські
13. Укажіть ім'я українського вченого, який уперше здійснив фізико-географічне районування території України:
 - A) Григорій Висоцький
 - B) Василь Докучаєв
 - B) Степан Рудницький
 - Г) Павло Тутковський
14. Виберіть 3 штучні водосховища на р. Дніпро:
 - A) Канівське
 - B) Бузьке
 - B) Дністровське
 - Г) Кременчуцьке
 - Д) Червонооскільське
 - 3) Каховське
 - Ж) Ладизинське
15. Зазначте, який числовий масштаб відповідає іменованому - в 1 см 500 м:
 - A) 1 : 500 000
 - B) 1 : 50 000
 - B) 1 : 5 000
 - Г) 1 : 500
16. Географічна широта буває:

- А) північна Б) південна В) західна Г) східна
17. Визначте, за якого часу сформувались сучасні ландшафти України:
А) антропоген Б) неоген В) палеоген; Г) тріас
18. Визначте, у якому напрямку в межах рівнинної частини нашої держави кількість опадів зменшується:
А) з півночі на південь Б) з північного заходу на південний схід
В) з південного заходу на північний схід Г) з південного сходу на північний захід
19. Укажіть, яка область України має спільний сухопутний кордон з Росією та Білоруссю:
А) Чернівецька Б) Закарпатська В) Волинська Г) Чернігівська
20. З'ясуйте, до якого типу озер за походженням улоговини належить озеро Світязь:
А) вулканічне Б) карстове В) тектонічне Г) загатне
21. Виберіть області України, територією яких протікає р. Дніпро:
А) Дніпропетровська; Б) Львівська; В) Житомирська; Г) Запорізька;
Д) Одеська; Є) Черкаська
22. Оберіть групу країн, які є членами міжнародної організації ГУАМ:
А) Грузія, Україна, Азербайджан, Молдова
Б) Греція, Узбекистан, Афганістан, Мальта
В) Гондурас, Уганда, Ангола, Мавританія
Г) Грузія, Узбекистан, Азербайджан, Молдова
23. Укажіть, якому історико-географічному краю відповідає більша частина території Волинської та Рівненської областей:
А) Поділля Б) Волинь В) Бессарабія Г) Слобожанщина
24. Два океани сполучає канал: А) Панамський Б) Суецький В) Північнокримський

II рівень Практичні завдання (3 бали по 1 балу за завдання)

1. Дайте визначення: Масштаб це _____
2. Розрахуйте площу зелених насаджень (в га), яка необхідна м. Києву (3.5 млн. мешканців), якщо 1 га лісу поглинає за одну годину стільки вуглекислого газу, скільки його видихає за цей час 200 осіб.
3. Визначте атмосферний тиск на вершині гори Говерла, якщо на висоті 183 м він у цей час становить 720 мм рт.ст.

III рівень (18 балів по 6 балів за питання)

1. Що таке міграція? Охарактеризуйте види міграцій на території України.
2. Охарактеризуйте закономірності поширення типів рослинності на території України. Перелічіть фізико-географічні чинники, що впливають на поширення рослинних угруповань і різноманітність рослинного покриву.
3. Доведіть на конкретних прикладах, що рельєф України тісно пов'язаний з її тектонічною будовою.

2017

10-11 клас

Варіант - А

ПІБ _____

Навчальний заклад, район _____

Назва роботи _____





контактний телефон _____

пед.керівник _____

I рівень (12 балів по 0.5 балів питання)

1. Оберіть масштаб, який відповідає дрібномасштабній географічній карті:
А) 1 : 2 000 000 Б) 1 : 300 000 Г) 1 : 50 000

1-А

2. Оберіть поняття, що відповідає визначенню « час, однаковий на всіх точках певного меридіану»:
 А) *поясний*; Б) *декретний*; В) *літній*; Г) *місцевий*
3. Оберіть групу областей з найбільшим показником густоти населення:
 А) *Донецька, Запорізька, Миколаївська*
 Б) *Харківська, Полтавська, Дніпропетровська*
 В) *Донецька, Дніпропетровська, Львівська*
 Г) *Одеська, Херсонська, Миколаївська*
4. Хто першим досягнув Південного полюса?
 А) *Джеймс Кук* Б) *Руаль Амундсен* В) *Роберт Пірі* Г) *Роберт Скотт*
5. Позначте вид природних ресурсів, що є невідновлюваним:
 А) *лісові*; Б) *мінеральні*; В) *водні*; Г) *рекреаційні*
6. Укажіть межі другого годинникового поясу без урахування проходження державних кордонів:
 А) *22° 30' сх.д. і 37° 30' сх.д.* Б) *15° сх.д. і 30° сх.д.*
 В) *7° 30' сх.д. і 22° 30' сх.д.* Г) *22° сх.д. і 40° сх.д.*
7. Визначте, які корисні копалини пов'язані з Передкарпатським прогином:
 А) *боксити* Б) *нафта і газ* В) *кам'яне вугілля* Г) *уранові руди*
8. Виберіть тип ґрунтів, що належать до азональних:
 А) *сірі лісові* Б) *дерново-підзолисті* В) *лучно-болотні* Г) *каштанові*
9. Оберіть поняття, яке відповідає визначенню «це величина, яка відображає відношення кількості населення до площі території, на якій воно проживає»:
 А) *демографія* Б) *природний приріст* В) *густина населення* Г) *імміграція*
10. Укажіть пару країн світу, де мешкає найбільша українська діаспора:
 А) *США і Канада* Б) *Білорусь і Польща* В) *США і Росія* Г) *Росія і Польща*
11. Серед запропонованих історико-географічних районів виберіть ті, що знаходяться у Західній Україні:
 А) *Слобожанщина* Б) *Буковина* В) *Таврія*
 Г) *Наддніпрянина* Д) *Волинь* З) *Сіверщина* Ж) *Галичина*
12. Визначте різницю в часі між географічними об'єктами, які віддалені один від одного на 4° :
 А) *1 хв.* Б) *4 хв.* В) *8 хв.* Г) *16 хв.*
13. Оберіть умовний знак, яким на карті позначають Бориславське, Долинське, Старосамбірське родовище:
 А)  Б)  В)  Г) 
14. Виберіть правильне твердження:
 А) *Оптимістична печера утворилася в крейдових відкладах*
 Б) *Товтри – пасма та горби, що утворились на краю прадавнього моря*
 В) *Шацькі озера утворились в нижній течії р. Дунай*
 Г) *Найдовший канал в Україні – Дніпро – Донбас*
15. Укажіть, яке озеро в Україні має найбільшу глибину:
 А) *Ялуг* Б) *Свєтязь* В) *Синевир* Г) *Сасик (Кундук)*
16. Виберіть варіант, у якому перелічені об'єкти не належать до берегової лінії Чорного моря:
 А) *Каламітська затока, Тендрівська коса*
 Б) *о. Джарилгач, Балаклавська бухта* В) *о. Зміїний, Каркінітська затока*
 Г) *коса Бірючий Острів, Бердянська затока*
17. Укажіть ґрунти, які сформувались на південному березі Криму:
 А) *бурі лісові* Б) *гірські лучні* В) *коричневі* Г) *каштанові*
18. Укажіть, який заповідник не є біосферним:
 А) *Асканія – Нова* Б) *Поліський* В) *Карпатський* Г) *Дунайський*
19. Визначте форму організації виробництва, коли кінцевий продукт одного виробництва є сировиною для іншого:
 А) *спеціалізація* Б) *комбінування* В) *кооперування* Г) *концентрація*
20. Назвіть державу, що не перетинається Гринвіцьким меридіаном:
 А) *Іспанія*; Б) *Італія*; В) *Великобританія*; Г) *Франція*
21. Виберіть 3 ознаки, які характерні для топографічних карт:
 А) *великомасштабні*
 Б) *дрібномасштабні* В) *середньомасштабні*
 Г) *спотворення практично відсутні* Д) *спотворення значні*

- З) за змістом – тематичні Ж) за змістом - загальногеографічні
22. Виберіть три річки України: А) Вісла Б) Дон В) Південний Буг
Г) Волга Д) Кубань З) Дністер Ж) Інгул
23. Оберіть правильне твердження, що стосується печери Мармурова:
А) найдовша печера України Б) відкрита в кінці ХІХ ст.
В) розташована на Поділлі Г) має карстова походження
24. Визначте, яка етнічна група українців населяє найвисокогірнішу частину українських Карпат:
А) лемки б) гуцули В) бойки г) поліщуки

II рівень Практичні завдання (3 бали по 1 балу за завдання)

1. Дайте визначення: Карта це _____
2. Місцевий час крайньої точки України (40⁰ сх.д.) випереджає місцевий час крайньої західної точки (м. Чоп) на 1 год.12 хв.. Визначте географічну довготу крайньої західної точки України.
3. Визначте, якою буде температура повітря на висоті 2 км, якщо на рівні моря вона становить 22°C.

III рівень (18 балів по 6 балів за питання)

1. Дайте визначення поняття «Урбанізація» та поясніть вплив урбанізації на розселення людей.
2. Що таке водний баланс і водні ресурси? Як Україна забезпечена водними ресурсами?
3. Що таке геоекологічна ситуація? Назвіть основні забруднювачі довкілля в Україні.

2017

10-11 клас

Варіант - Б

ПІБ _____

Навчальний заклад, район _____

Назва роботи _____

_____ контактний телефон _____

пед.керівник _____

1-Б

I рівень (12 балів по 0.5 балів питання)

1. Оберіть правильне твердження щодо особливостей економіко-географічного положення України:
А) держава межує з країнами ЄС на Заход;
Б) територія держави не омивається морями Світового океану
В) територія країни не компактна
2. Хто першим досягнув Північного полюса?
А) Джеймс Кук Б) Руаль Амундсен В) Роберт Пірі; Г) Роберт Скотт
3. Оберіть варіант, у якому вказано адміністративні області України, що межують одна з одною:
А) Вінницька, Житомирська, Київська; Б) Львівська, Тернопільська, Полтавська.
В) Дніпропетровська, Одеська, Полтавська Г) Рівненська, Волинська, Закарпатська

4. Укажіть тектонічну структуру, у межах якої розташовані основні родовища нафти і газу України:
 А) Волино - Подільська плита Б) Дніпровсько - Донецька западина В) Український щит
5. Укажіть, що є предметом вивчення фізичної географії:
 А) закономірності розвитку природи Землі Б) закономірності розміщення населення;
 В) закономірності розміщення господарства
 Г) особливості природи, населення, господарства
6. Як називають вологі екваторіальні ліси Південної Америки:
 А) сельва Б) пампа В) кампос Г) льянос
7. Оберіть представників тваринного світу, характерних для степової зони України:
 А) глухар, бобер, лось Б) олень, сайгак, лисиця
 В) бабак, куріпка, сокіл Г) борсук, лелека чорний, ведмідь
8. Укажіть відповідність між об'єктами природно-заповідного фонду та областями України, у межах яких вони розташовані:
 А) Природний заповідник «Розточчя» _____ Б) Шацький національний природний парк _____
 В) Біосферний заповідник «Асканія Нова» _____;
 Г) Природний заповідник «Медобори» _____.
- 1) Харківська 2) Волинська 3) Львівська 4) Херсонська 5) Тернопільська
9. Вкажіть ресурси, які належать до складу вичерпних: А) корисні копалини
 Б) енергія сонця В) внутрішня енергія землі Г) гідроенергетичні ресурси
10. Зазначте, хто з дослідників написав книжку «Опис України»:
 А) Клавдій Птолемей Б) Страбон В) Гійом де Боплан Г) Пліній Старший
11. Оберіть групу метеорологічних стихійних явищ, які спостерігаються в Кримських горах і Карпатах: А) зливи, град, суховії, паводки Б) посухи, селі, паводки
 В) лавини, селі, зливи, град Г) пилові бурі, зливи, суховії
12. Укажіть, які відклади в геологічній будові України є найдавніші:
 А) докембрійські Б) палеозойські В) мезозойські Г) кайнозойські
13. Укажіть ім'я українського вченого, який уперше здійснив фізико-географічне районування території України: А) Григорій Висоцький Б) Василь Докучаєв
 В) Степан Рудницький Г) Павло Тутковський
14. Виберіть 3 штучні водосховища на р. Дніпро:
 А) Канівське Б) Бузьке В) Дністровське Г) Кременчуцьке
 Д) Червонооскільське Ж) Ладизжинське
15. Зазначте, який числовий масштаб відповідає іменованому - в 1 см 500 м:
 А) 1 : 500 000 Б) 1 : 50 000 В) 1 : 5 000 Г) 1 : 500
16. Географічна широта буває:
 А) північна Б) південна В) західна Г) східна
17. Визначте, за якого часу сформувались сучасні ландшафти України:
 А) антропоген Б) неоген В) палеоген; Г) тріас
18. Визначте, у якому напрямку в межах рівнинної частини нашої держави кількість опадів зменшується:
 А) з півночі на південь Б) з північного заходу на південний схід
 В) з південного заходу на північний схід Г) з південного сходу на північний захід
19. Укажіть, яка область України має спільний сухопутний кордон з Росією та Білоруссю:
 А) Чернівецька Б) Закарпатська В) Волинська Г) Чернігівська
20. З'ясуйте, до якого типу озер за походженням улоговини належить озеро Світязь:
 А) вулканічне Б) карстове В) тектонічне Г) загатне
21. Виберіть області України, територією яких протікає р. Дніпро:
 А) Дніпропетровська; Б) Львівська; В) Житомирська; Г) Запорізька;
 Д) Одеська; Є) Черкаська
22. Оберіть групу країн, які є членами міжнародної організації ГУАМ:
 А) Грузія, Україна, Азербайджан, Молдова
 Б) Греція, Узбекистан, Афганістан, Мальта
 В) Гондурас, Уганда, Ангола, Мавританія

Г) Грузія, Узбекистан, Азербайджан, Молдова

23. Укажіть, якому історико-географічному краю відповідає більша частина території Волинської та Рівненської областей: А) Поділля Б) Волинь В) Бессарабія Г) Слобожанщина

24. Два океани сполучає канал: А) Панамський Б) Суецький В) Північнокримський

II рівень Практичні завдання (3 бали по 1 балу за завдання)

1. Дайте визначення: Масштаб це _____

2. Розрахуйте площу зелених насаджень (в га), яка необхідна м. Києву (3.5 млн. мешканців), якщо 1 га лісу поглинає за одну годину стільки вуглекислого газу, скільки його видихає за цей час 200 осіб.

3. Визначте атмосферний тиск на вершині гори Говерла, якщо на висоті 183 м він у цей час становить 720 мм рт.ст.

III рівень (18 балів по 6 балів за питання)

1. Що таке моніторинг природного середовища? Охарактеризуйте відомі вам види моніторингу.

2. Чому, маючи найбільше поголів'я великої рогатої худоби, населення Індії дуже мало споживає м'яса, масла, молока й іншої продукції тваринного походження?

3. Охарактеризуйте умови ґрунтоутворення. Назвіть зональні типи ґрунтів України.